

**ΥΠΟΥΡΓΕΙΟ ΠΑΙΔΕΙΑΣ ΚΑΙ ΠΟΛΙΤΙΣΜΟΥ
ΔΙΕΥΘΥΝΣΗ ΑΝΩΤΕΡΗΣ ΚΑΙ ΑΝΩΤΑΤΗΣ ΕΚΠΑΙΔΕΥΣΗΣ
ΥΠΗΡΕΣΙΑ ΕΞΕΤΑΣΕΩΝ**

ΠΑΓΚΥΠΡΙΕΣ ΕΞΕΤΑΣΕΙΣ 2009

ΤΕΧΝΟΛΟΓΙΑ (I) ΘΕΩΡΗΤΙΚΗΣ ΚΑΤΕΥΘΥΝΣΗΣ

Μάθημα: ΔΙΑΚΟΣΜΗΤΙΚΗ

Ημερομηνία και ώρα εξέτασης: Παρασκευή, 29 Μαΐου 2009

7:30 - 10:00

Επιτρεπόμενη διάρκεια γραπτού 2,5 ώρες (150 λεπτά)

Το εξεταστικό δοκίμιο αποτελείται από δύο μέρη Α' και Β', 4 σελίδες

Ο/Η κάθε εξεταζόμενος/η θα εφοδιαστεί με τα πιο κάτω:

- Το εξεταστικό δοκίμιο
- Το Φύλλο Σχεδίασης 1 (Α3)
- Το Φύλλο Σχεδίασης 2 (Α3)
- Το Φύλλο Σχεδίασης 3 (Α3)
- Ένα έντυπο Α4 (χαρτονάκι) στο οποίο, αφού συμπληρώσει τα στοιχεία του/της, θα επισυναφθούν τα τρία Φύλλα Σχεδίασης Α3

ΟΔΗΓΙΕΣ: ΝΑ ΑΠΑΝΤΗΣΕΤΕ ΣΕ ΟΛΕΣ ΤΙΣ ΕΡΩΤΗΣΕΙΣ

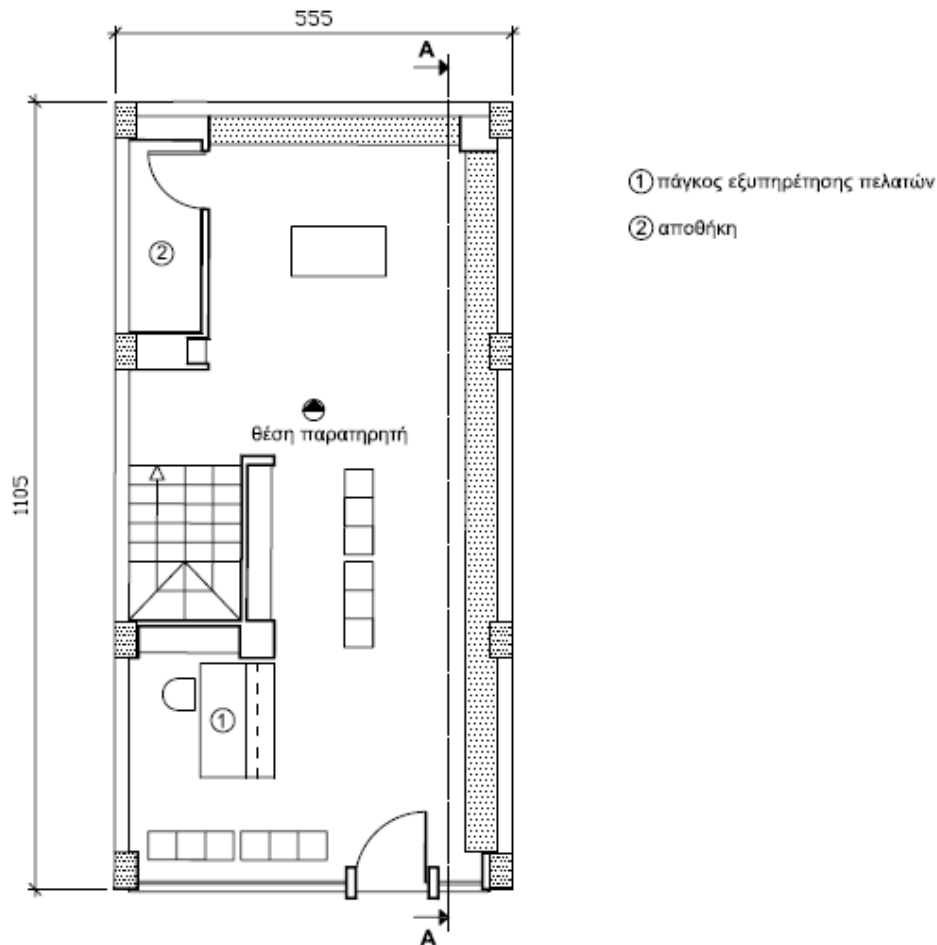
1. Οι ερωτήσεις 1 μέχρι 5 του ΜΕΡΟΥΣ Α' να απαντηθούν στο Φύλλο Σχεδίασης 1.
2. Η ερώτηση 6α να εκτελεστεί στο Φύλλο Σχεδίασης 2, (Σχήμα 3).
3. Η ερώτηση 6β να εκτελεστεί στο Φύλλο Σχεδίασης 2, (Σχήμα 4).
4. Η ερώτηση 7 να εκτελεστεί στο Φύλλο Σχεδίασης 3.
5. Να μη γράψετε το όνομά σας ή οποιαδήποτε άλλα στοιχεία που θα δηλώνουν την ταυτότητά σας στα Φύλλα Σχεδίασης.

ΘΕΜΑ: Διακόσμηση καταστήματος κινητής τηλεφωνίας.

Εταιρία κινητής τηλεφωνίας έχει αγοράσει κατάστημα με σκοπό την επίδειξη και προώθηση των διαφόρων προϊόντων της (κινητά τηλέφωνα, θήκες κινητών, κάρτες μνήμης και άλλα αξεσουάρ). Για το σκοπό αυτό, το κατάστημα πρέπει να διαθέτει τα πιο κάτω:

- Εκθεσιακό και αποθηκευτικό χώρο για τα διάφορα μοντέλα κινητών τηλεφώνων.
- Εκθεσιακό και αποθηκευτικό χώρο για τα διάφορα αξεσουάρ.
- Πάγκο εξυπηρέτησης πελατών.
- Χώρο προβολής του λογότυπου της.

Στη κάτοψη του **σχήματος 1**, φαίνεται ο ισόγειος χώρος του καταστήματος. Το κλιμακοστάσιο οδηγεί σε μεσοπάτωμα στο οποίο υπάρχουν οι απαραίτητοι βοηθητικοί χώροι.



ΚΑΤΟΨΗ ΚΑΤΑΣΤΗΜΑΤΟΣ
ΚΛΙΜΑΚΑ 1: 100

ΣΧΗΜΑ 1

ΜΕΡΟΣ Α΄: (40 μονάδες)**Κάθε ορθή απάντηση βαθμολογείται με 8 μονάδες**

1. Να εισηγηθείτε δύο είδη δαπέδων που μπορεί να χρησιμοποιηθούν στον ισόγειο χώρο του καταστήματος και να αναφέρετε δυο παράγοντες που έχετε λάβει υπόψη για την επιλογή σας, σε σχέση με τη λειτουργικότητα και την αισθητική του χώρου.
2. Να αναφέρετε δύο υλικά με τα οποία προτείνετε να επενδυθούν τα διαχωριστικά του κλιμακοστάσιου και της αποθήκης που φαίνονται στο **ΣΧΗΜΑ 1**. Να αιτιολογήσετε τις επιλογές σας.
3. Να αναπτύξετε δύο λόγους για τους οποίους η χρήση ψευδοροφής στο κατάστημα είναι απαραίτητη. Να προτείνετε δύο υλικά κατάλληλα για την κατασκευή της ψευδοροφής.
4. Να αιτιολογήσετε τη χρήση ειδικού φωτισμού δίνοντας δύο παραδείγματα εφαρμογής του στο χώρο του καταστήματος.
5. α. Να σχεδιάσετε με ελεύθερο χέρι και σε κλίμακα 1:25 περίπου, στο **φύλλο σχεδίασης 1, σχήμα 2**, την όψη του πάγκου εξυπηρέτησης των πελατών.

(4 μονάδες)

- β. Να σημειώσετε στο σχέδιό σας το ύψος του πάγκου εξυπηρέτησης και τα υλικά κατασκευής που προτείνετε.

(2 μονάδες)

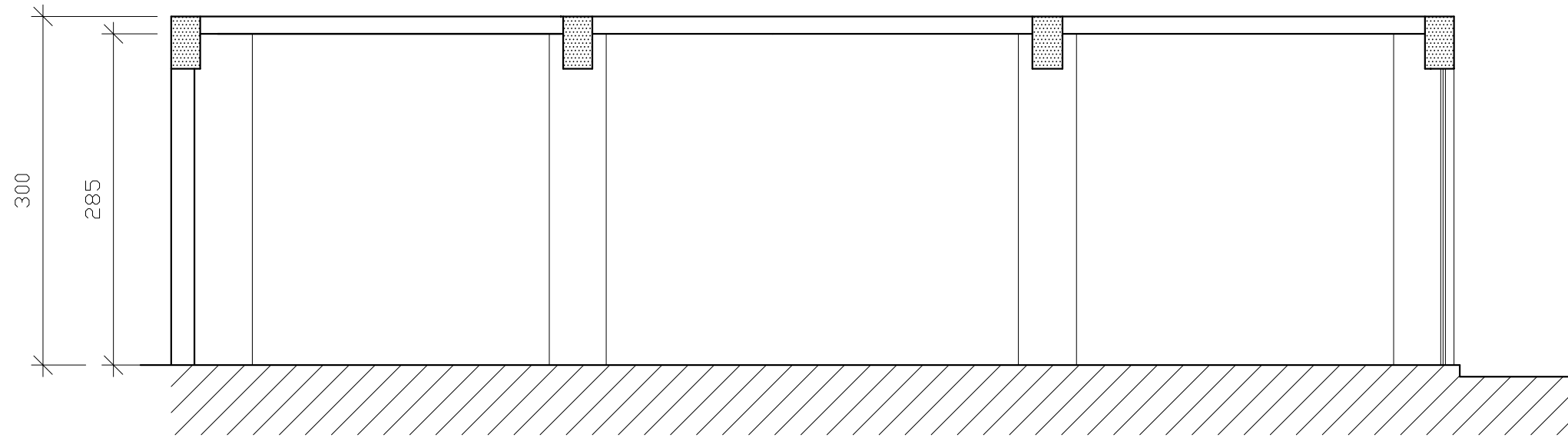
- γ. Να αποδώσετε με χρώμα την εισήγησή σας.

(2 μονάδες)

ΜΕΡΟΣ Β: (60 μονάδες).**Κάθε ορθή απάντηση βαθμολογείται με 30 μονάδες.**

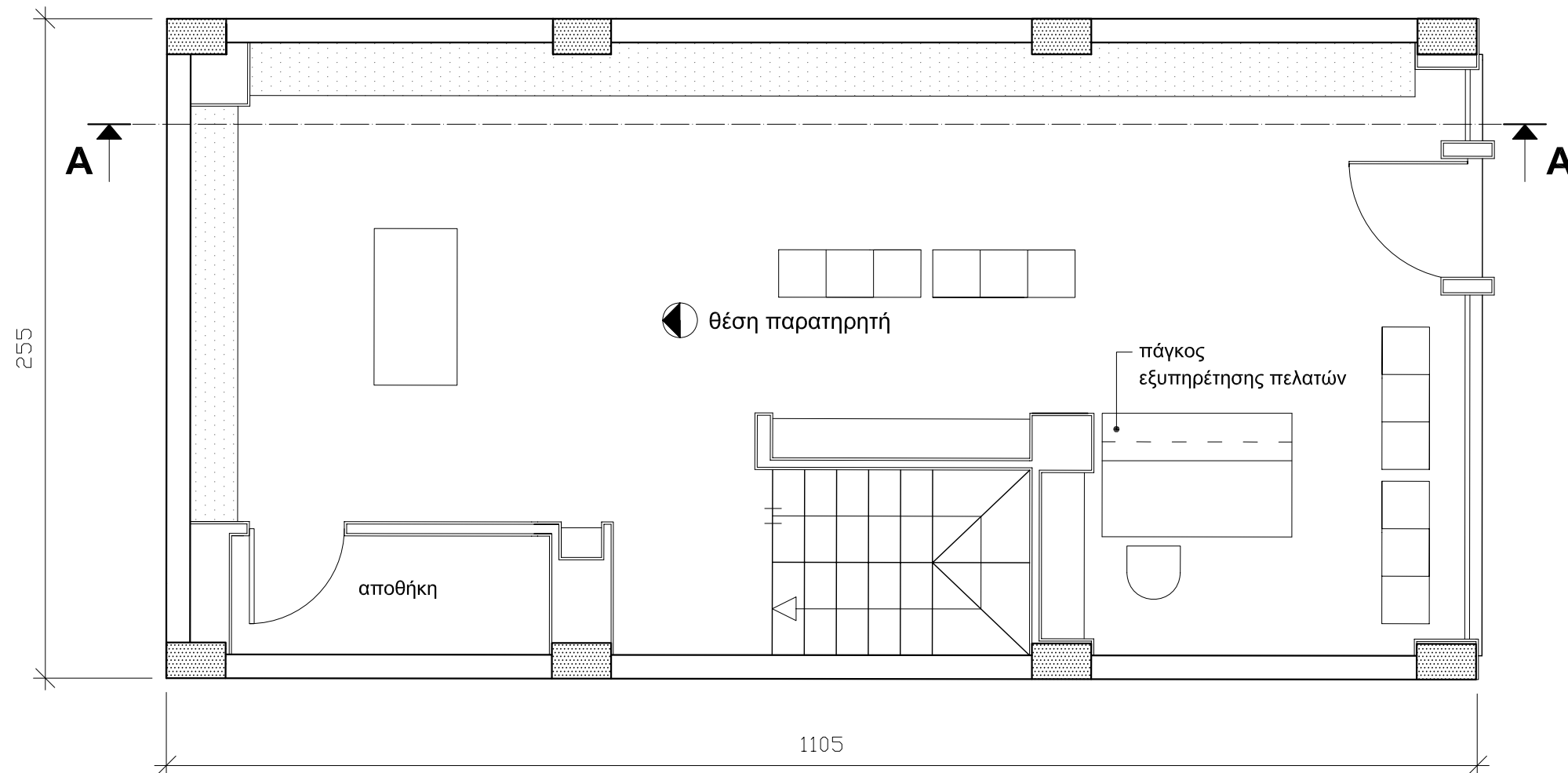
6. α. Να σχεδιάσετε, σε κλίμακα 1:50, στο σκιασμένο μέρος της κάτοψης (σχήμα 3), στο **φύλλο σχεδίασης 2** την πρότασή σας για τα έπιπλα αποθήκευσης και έκθεσης των προϊόντων του καταστήματος.
(10 μονάδες)
- β. Να σχεδιάσετε, σε κλίμακα 1:50, στην **τομή A-A (σχήμα 4)**, στο **φύλλο σχεδίασης 2**, όλα τα στοιχεία της διακόσμησης (έπιπλα, επένδυση τοίχου και ψευδοροφή) σύμφωνα με τις εισηγήσεις σας.
(20 μονάδες)
7. α. Να σχεδιάσετε στο φύλλο **σχεδίασης 3**, με ελεύθερο χέρι, προοπτικό σχέδιο με ένα σημείο φυγής σύμφωνα με τη θέση του παρατηρητή (σχήμα 5), με όλα τα στοιχεία της διακόσμησης που έχετε προτείνει.
(20 μονάδες)
- β. Να χρωματίσετε το προοπτικό σχέδιο έτσι ώστε να αποδώσετε με τον καλύτερο δυνατό τρόπο τα υλικά που έχετε προτείνει.
(10 μονάδες)

ΤΕΛΟΣ ΔΟΚΙΜΙΟΥ



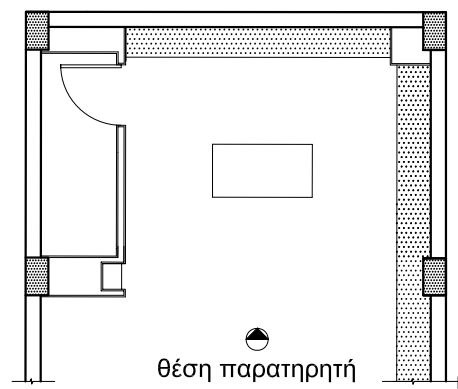
TOMH A-A
ΚΛΙΜΑΚΑ 1: 50

ΣΧΗΜΑ 4



ΚΑΤΟΨΗ ΚΑΤΑΣΤΗΜΑΤΟΣ
ΚΛΙΜΑΚΑ 1: 50

ΣΧΗΜΑ 3



ΣΧΗΜΑ 5