

**ΥΠΟΥΡΓΕΙΟ ΠΑΙΔΕΙΑΣ ΚΑΙ ΠΟΛΙΤΙΣΜΟΥ  
ΔΙΕΥΘΥΝΣΗ ΑΝΩΤΕΡΗΣ ΚΑΙ ΑΝΩΤΑΤΗΣ ΕΚΠΑΙΔΕΥΣΗΣ  
ΥΠΗΡΕΣΙΑ ΕΞΕΤΑΣΕΩΝ**

**ΠΑΓΚΥΠΡΙΕΣ ΕΞΕΤΑΣΕΙΣ 2009**

**ΤΕΧΝΟΛΟΓΙΑ (Ι) ΠΡΑΚΤΙΚΗΣ ΚΑΤΕΥΘΥΝΣΗΣ**

**Μάθημα: ΤΕΧΝΟΛΟΓΙΑ ΚΑΙ ΕΡΓΑΣΤΗΡΙΑ ΔΙΑΚΟΣΜΗΤΙΚΗΣ**

**Ημερομηνία και ώρα εξέτασης: Τρίτη, 26 Μαΐου 2009**

**11:00 - 13:30**

**Επιτρεπόμενη διάρκεια γραπτού 2,5 ώρες (150 λεπτά)**

**Το εξεταστικό δοκίμιο αποτελείται από δύο μέρη Α' και Β', 4 σελίδες**

Ο/Η κάθε εξεταζόμενος/η θα εφοδιαστεί με τα πιο κάτω:

- Το εξεταστικό δοκίμιο
- Το Φύλλο Σχεδίασης 1 (Α3)
- Το Φύλλο Σχεδίασης 2 (Α3)
- Το Φύλλο Σχεδίασης 3 (Α3)
- Δύο διαφανή φύλλα χαρτιού (τρέισινγκ) (Α4)
- Ένα έντυπο Α4 (χαρτονάκι) στο οποίο, αφού συμπληρώσει τα στοιχεία του/της, θα επισυναφθούν τα τρία Φύλλα Σχεδίασης Α3

**ΟΔΗΓΙΕΣ: ΝΑ ΑΠΑΝΤΗΣΕΤΕ ΣΕ ΟΛΕΣ ΤΙΣ ΕΡΩΤΗΣΕΙΣ**

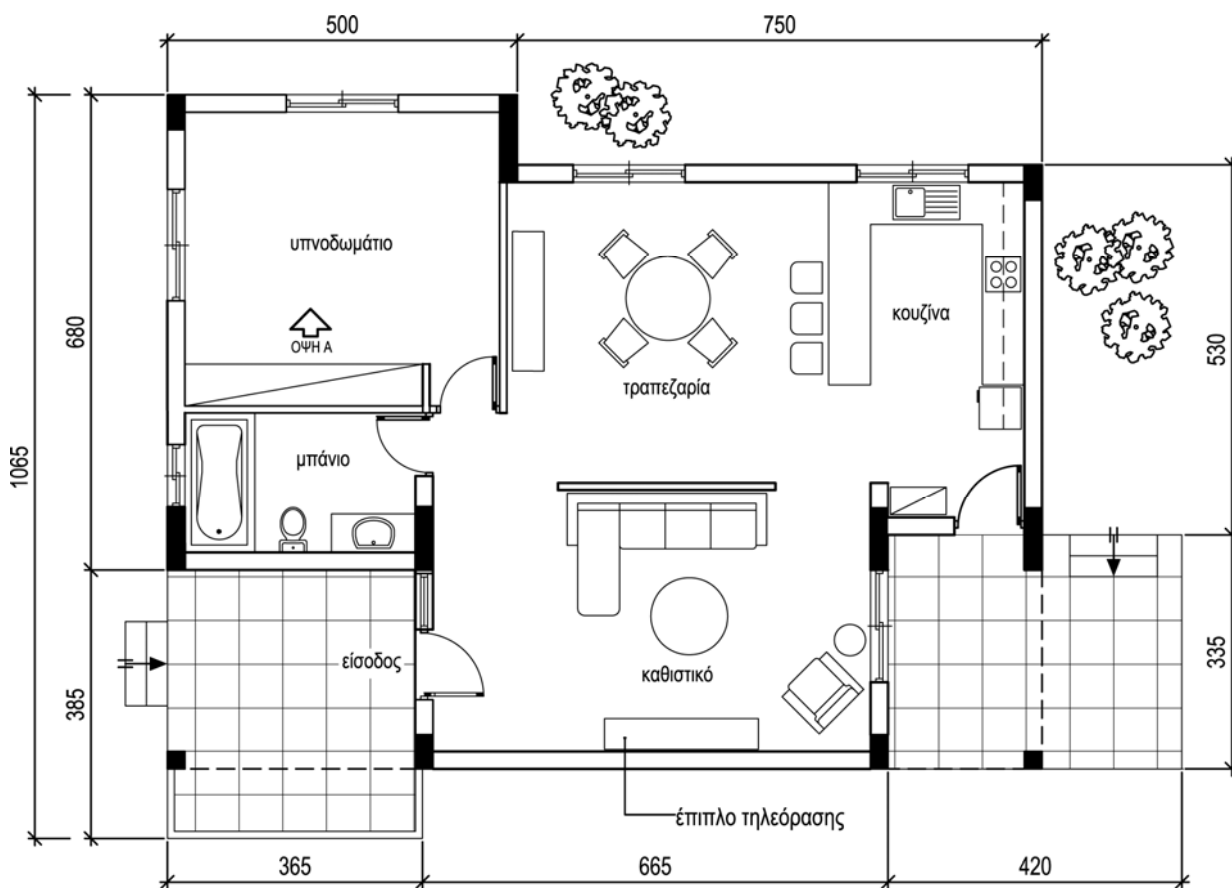
1. Οι ερωτήσεις 1 μέχρι 4 του ΜΕΡΟΥΣ Α' να απαντηθούν στο Φύλλο Σχεδίασης 1.
2. Η ερώτηση 5 να εκτελεστεί στα διαφανή Φύλλα Σχεδίασης (τρέισινγκ).
3. Η ερώτηση 6 να εκτελεστεί στο Φύλλο Σχεδίασης 2, (Σχήμα 3).
4. Η ερώτηση 7 να εκτελεστεί στο Φύλλο Σχεδίασης 3, (Σχήμα 4).
5. Τα διαφανή φύλλα χαρτιού να συνδεθούν με τα Φύλλα Σχεδίασης σε δύο τουλάχιστον σημεία.
6. Να μη γράψετε το όνομά σας ή οποιαδήποτε άλλα στοιχεία που θα δηλώνουν την ταυτότητά σας στα Φύλλα Σχεδίασης.

## ΘΕΜΑ: Διαρρύθμιση και Διακόσμηση μικρής κατοικίας

Δίνεται η κάτοψη μικρής εξοχικής κατοικίας όπως φαίνεται στο **Σχήμα 1** πιο κάτω. Βρίσκεται σε παραλιακό μέρος, στον Πρωταρά. Ανήκει σε νεαρό ζευγάρι και χρησιμοποιείται κυρίως τους καλοκαιρινούς μήνες. Η κατοικία αποτελείται από ένα υπνοδωμάτιο, μπάνιο και ενιαίο χώρο καθιστικού, τραπεζαρίας και κουζίνας.

Σας ανατίθεται να διαρρυθμίσετε και να διακοσμήσετε πλήρως το υπνοδωμάτιο με την απαραίτητη επίπλωση περιλαμβάνοντας τα ακόλουθα:

- α) διπλό κρεβάτι
- β) δύο κομοδίνα
- γ) έπιπλο τουαλέτας με σκαμπό
- δ) συμπληρωματικά στοιχεία (φωτιστικά, πίνακες κτλ.)



ΚΑΤΟΨΗ ΚΑΤΟΙΚΙΑΣ  
ΚΛΙΜΑΚΑ 1:100

ΣΧΗΜΑ 1

**ΜΕΡΟΣ Α΄: (40 μονάδες)****Κάθε ορθή απάντηση βαθμολογείται με 10 μονάδες**

1. Να περιγράψετε το στιλ που προτείνετε για τον εσωτερικό χώρο της κατοικίας και να εισηγηθείτε υλικά και χρώματα για το δάπεδο, τους τοίχους και την επίπλωση του ενιαίου χώρου καθιστικού, τραπεζαρίας και κουζίνας που θα ενισχύσουν την άποψή σας.
2. Στο χώρο του υπνοδωματίου θα χρησιμοποιηθεί ψευδοροφή για λειτουργικούς και αισθητικούς λόγους.
  - α) Να αναφέρετε δύο πιθανά υλικά που προτείνετε για την κατασκευή της.
  - β) Ποιο σύστημα φωτισμού προτείνετε για το υπνοδωμάτιο και με ποια φωτιστικά θα επιτευχθεί.
3.
  - α) Να εξηγήσετε με ποιο τρόπο έχει επιτευχθεί η λειτουργικότητα στο χώρο της κουζίνας.
  - β) Να προτείνετε δύο κατάλληλα υλικά για την κατασκευή ντουλαπιών της κουζίνας και να αιτιολογήσετε την απάντησή σας.
  - γ) Να αναφέρετε τρία βασικά κριτήρια επιλογής υλικού για την επένδυση του πάγκου της κουζίνας.
4. Στο **Φύλλο Σχεδίασης 1, Σχήμα 2**, σε κλίμακα 1:50, δίνεται η κάτοψη του επίπλου τηλεόρασης που βρίσκεται στο χώρο του καθιστικού.
  - α) Να σχεδιάσετε με ελεύθερο χέρι, περίπου σε κλίμακα 1:50, την πρόσοψη του επίπλου τηλεόρασης.
  - β) Να γράψετε τρεις βασικές διαστάσεις του επίπλου που σχεδιάσατε.
  - γ) Να προτείνετε δύο υλικά κατάλληλα για την κατασκευή του επίπλου, σημειώνοντάς τα στο σχέδιο.

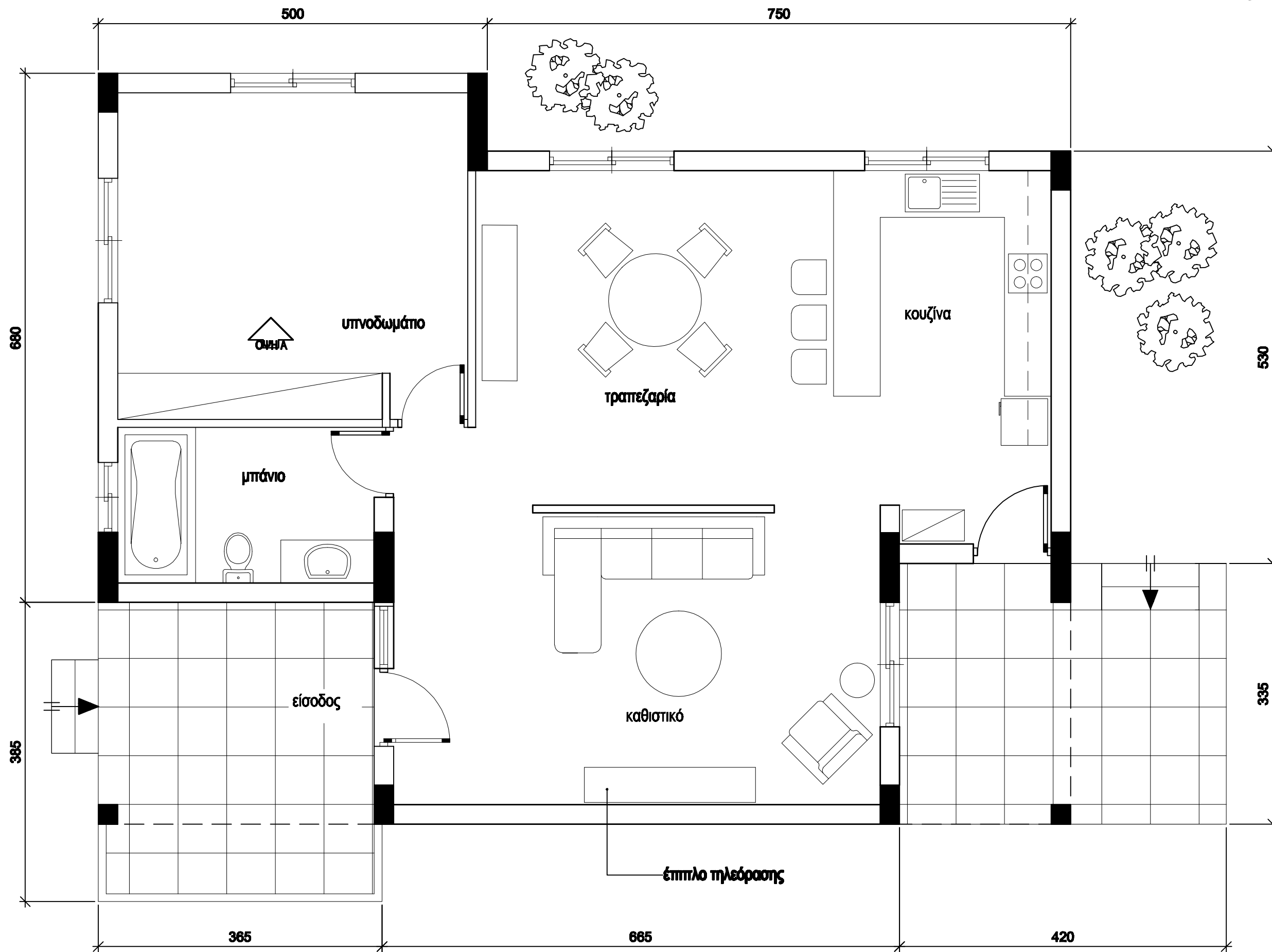
**ΜΕΡΟΣ Β΄: (60 μονάδες)**

**Κάθε ορθή απάντηση βαθμολογείται με 20 μονάδες**

5. Να σχεδιάσετε δύο προσχέδια, με ελεύθερο χέρι, στα διαφανή φύλλα χαρτιού (τρέισινγκ) προτείνοντας λύσεις για τη διαρρύθμιση του υπνοδωματίου.
6. α) Στο **Φύλλο Σχεδίασης 2, Σχήμα 3**, να σχεδιάσετε σε κλίμακα 1:50, τη τελική σας λύση με βάση τα προσχέδιά σας.
- β) Να αποδώσετε με χρώμα τα υλικά που προτείνετε για το δάπεδο και την επίπλωση του υπνοδωματίου καθώς και των υπόλοιπων εσωτερικών χώρων, καθιστικού, τραπεζαρίας, κουζίνας και μπάνιου.
7. α) Στο **Φύλλο Σχεδίασης 3, Σχήμα 4** φαίνεται η **εσωτερική όψη** του υπνοδωματίου. Να σχεδιάσετε, στη σωστή κλίμακα, τα έπιπλα που εισηγείστε για το υπνοδωμάτιο μαζί με όλα τα στοιχεία που θα συμπληρώνουν τη διακόσμηση του χώρου αυτού.
- β) Να χρωματίσετε την εσωτερική όψη έτσι ώστε να αποδώσετε με τον καλύτερο δυνατό τρόπο την υφή των επίπλων και όλων των άλλων στοιχείων της διακόσμησης.

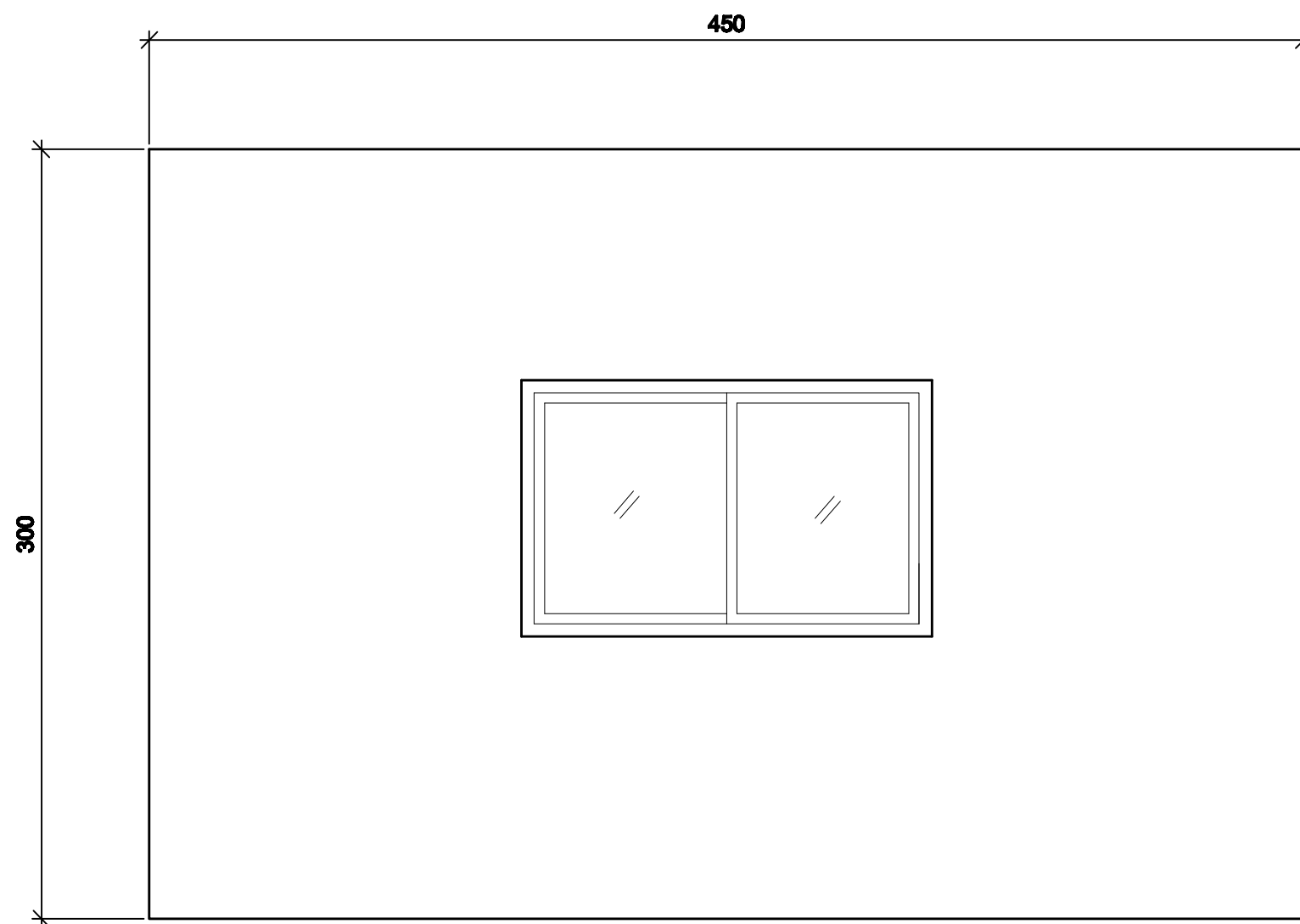
**ΤΕΛΟΣ ΔΟΚΙΜΙΟΥ**





ΚΑΤΟΨΗ ΚΑΤΟΙΚΙΑΣ  
ΚΛΙΜΑΚΑ 1:50

ΣΧΗΜΑ 3



ΕΣΩΤΕΡΙΚΗ ΟΨΗ ΥΠΝΟΔΩΜΑΤΙΟΥ  
ΚΛΙΜΑΚΑ 1:25