

ΥΠΟΥΡΓΕΙΟ ΠΑΙΔΕΙΑΣ ΚΑΙ ΠΟΛΙΤΙΣΜΟΥ
ΔΙΕΥΘΥΝΣΗ ΑΝΩΤΕΡΗΣ ΚΑΙ ΑΝΩΤΑΤΗΣ ΕΚΠΑΙΔΕΥΣΗΣ
ΥΠΗΡΕΣΙΑ ΕΞΕΤΑΣΕΩΝ

ΠΑΓΚΥΠΡΙΕΣ ΕΞΕΤΑΣΕΙΣ

2007

ΤΕΧΝΟΛΟΓΙΑ (Ι) ΠΡΑΚΤΙΚΗΣ ΚΑΤΕΥΘΥΝΣΗΣ

ΜΑΘΗΜΑ : ΤΕΧΝΟΛΟΓΙΑ ΚΑΙ ΕΡΓΑΣΤΗΡΙΑ ΔΙΑΚΟΣΜΗΤΙΚΗΣ
ΗΜΕΡΟΜΗΝΙΑ : ΔΕΥΤΕΡΑ, 4 ΙΟΥΝΙΟΥ 2007
ΩΡΑ : 11:00 – 13:30

Επιτρεπόμενη διάρκεια γραπτού 2,5 ώρες (150 λεπτά)

Το εξεταστικό δοκίμιο αποτελείται από δύο μέρη (Α' και Β'), τέσσερις σελίδες Α4.

Ο/Η κάθε εξεταζόμενος/η θα εφοδιαστεί με τα πιο κάτω:

- Το εξεταστικό δοκίμιο
- Το τετράδιο απαντήσεων
- Τα φύλλα σχεδίασης 1,2 και 3.

ΟΔΗΓΙΕΣ:

ΝΑ ΑΠΑΝΤΗΣΕΤΕ ΣΕ ΟΛΕΣ ΤΙΣ ΕΡΩΤΗΣΕΙΣ

- Οι ερωτήσεις 1 και 2 του ΜΕΡΟΥΣ Α' να απαντηθούν στο τετράδιο απαντήσεων.
- Οι ερωτήσεις 3 και 4 του ΜΕΡΟΥΣ Α' να απαντηθούν στο ΦΥΛΛΟ ΣΧΕΔΙΑΣΗΣ 1.
- Η ερώτηση 5 του ΜΕΡΟΥΣ Β' να απαντηθεί στο ΦΥΛΛΟ ΣΧΕΔΙΑΣΗΣ 2.
- Η ερώτηση 6 του ΜΕΡΟΥΣ Β' να απαντηθεί στο ΦΥΛΛΟ ΣΧΕΔΙΑΣΗΣ 3.

ΜΕΡΟΣ Α΄ : 40 μονάδες.

Κάθε ορθή απάντηση βαθμολογείται με 10 μονάδες.

1. α) Να εξηγήσετε το ρόλο που διαδραματίζει στο τελικό αποτέλεσμα της διακόσμησης, η συνεχής ενημέρωση ενός διακοσμητή όσον αφορά τα διάφορα υλικά που διατίθενται στην αγορά.
(6 μονάδες)
- β) Να κατονομάσετε δυο υλικά που χρησιμοποιούνται για επενδύσεις εσωτερικών τοίχων και να δικαιολογήσετε την απάντησή σας.
(4 μονάδες)
2. Σε υπό ανακαίνιση κατάσταση πώλησης μουσικών δίσκων, cd και dvd, ο διακοσμητής προτείνει τη χρήση ψευδοροφής. Ο ιδιοκτήτης του καταστήματος είναι επιφυλακτικός λόγω του κόστους της κατασκευής.
 - α) Να αναφέρετε τέσσερα επιχειρήματα που μπορεί να προβάλει ο διακοσμητής για να πείσει τον πελάτη του, για τη χρησιμότητα της εφαρμογής της ψευδοροφής.
(8 μονάδες)
 - β) Να εισηγηθείτε δυο υλικά κατάλληλα, κατά την κρίση σας, για την κατασκευή της ψευδοροφής στο κατάστημα.
(2 μονάδες)
3. Στο σχήμα 1(ΦΥΛΛΟ ΣΧΕΔΙΑΣΗΣ 1), δίνεται η όψη τοίχου σε κλίμακα 1:25.
 - α) Να σχεδιάσετε περίπου σε κλίμακα 1:25, με ελεύθερο χέρι, την πρόσοψη επίπλου τηλεόρασης.
(6 μονάδες)
 - β) Να αναγράψετε τέσσερις βασικές διαστάσεις του επίπλου που σχεδιάσατε.
(2 μονάδες)
 - γ) Να προτείνετε δυο υλικά κατάλληλα για την κατασκευή του επίπλου αναγράφοντάς τα στο σχέδιο.
(2 μονάδες)
4. Να σχεδιάσετε περίπου σε κλίμακα 1:25, με ελεύθερο χέρι, τη διαρρύθμιση των στοιχείων του μπάνιου που δίνεται σε κάτοψη στο σχήμα 2, (ΦΥΛΛΟ ΣΧΕΔΙΑΣΗΣ 1).
(10 μονάδες)

ΜΕΡΟΣ Β΄ : 60 μονάδες

5. Στο **σχήμα 3** στη σελίδα 4, δίνεται η κάτοψη κατοικίας με δύο υπνοδωμάτια σε κλίμακα 1:100.
Οι ιδιοκτήτες της κατοικίας, ένα ζευγάρι με δεκαπεντάχρονο αγόρι, χρειάζονται τη βοήθειά σας ως διακοσμητή ώστε οι χώροι διαμονής τους να γίνουν ευχάριστοι και λειτουργικοί.

Στο **ΦΥΛΛΟ ΣΧΕΔΙΑΣΗΣ 2** δίνεται η κάτοψη της ίδιας κατοικίας σε κλίμακα 1:50. Με βάση τους κανόνες εργονομίας και αισθητικής:

α) Να διαρρυθμίσετε τους χώρους του καθιστικού, της τραπεζαρίας, της κουζίνας και των υπνοδωματίων σχεδιάζοντας την επίπλωση στην πιο πάνω κάτοψη.

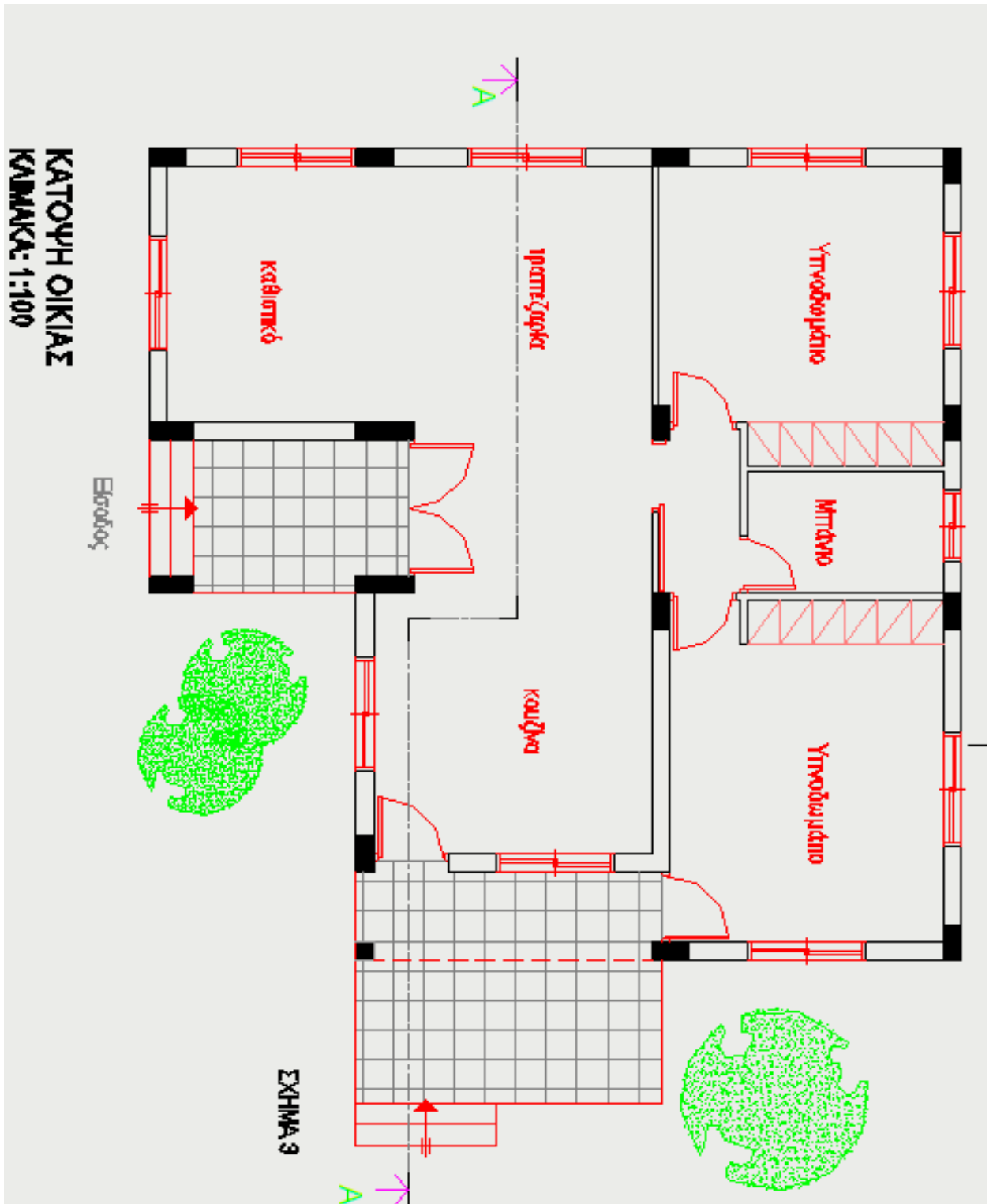
(25 μονάδες)

β) Να σχεδιάσετε και να αποδώσετε με χρώμα, τα υλικά που προτείνετε για τα δάπεδα σε όλους τους χώρους της κατοικίας.

(15 μονάδες)

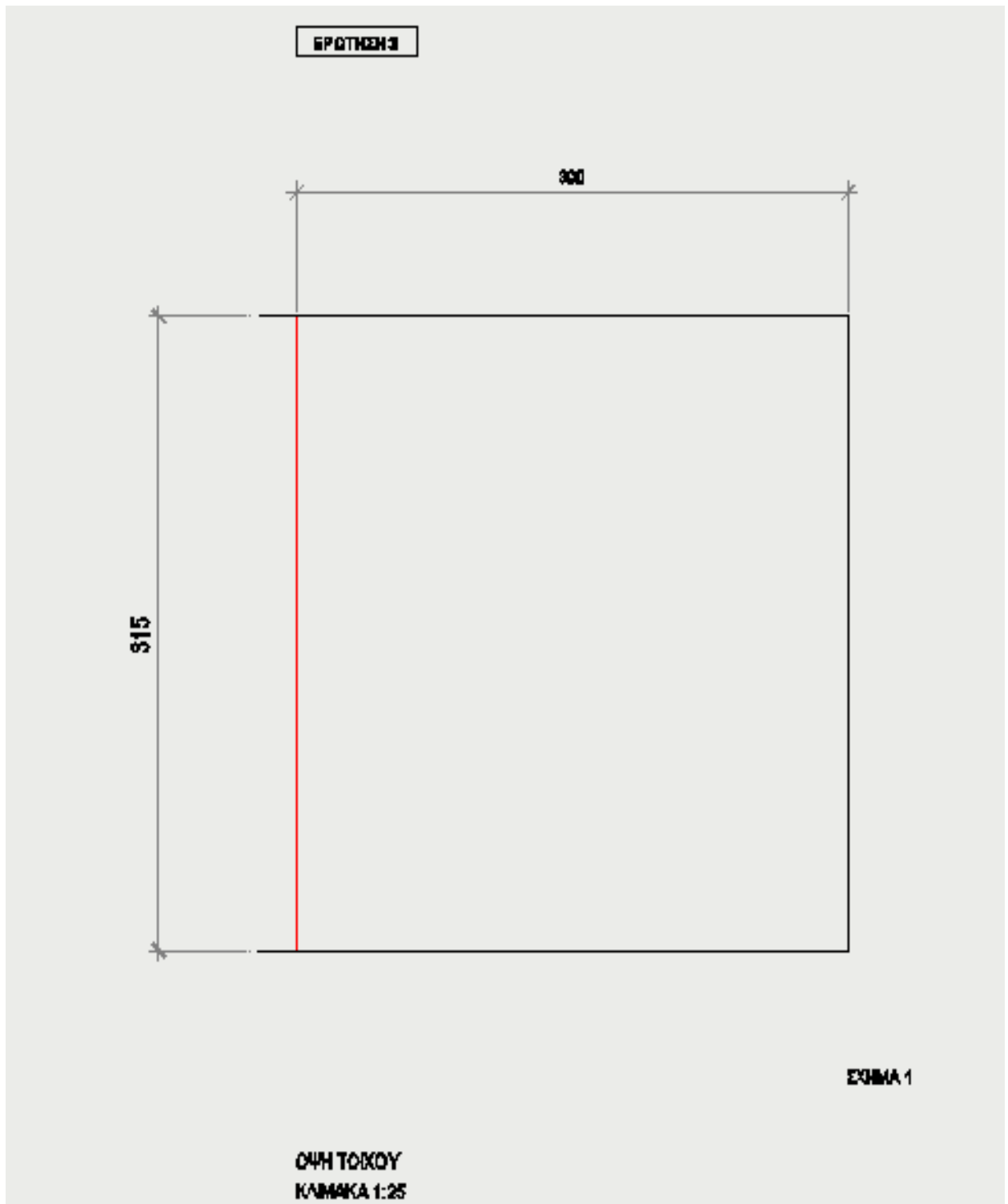
6. Να σχεδιάσετε στην **τομή A-A** (σχήμα 5) στο **ΦΥΛΛΟ ΣΧΕΔΙΑΣΗΣ 3**, σε κλίμακα 1:50, όλα τα **έπιπλα** (κινητά και ακίνητα) τα οποία έχετε σχεδιάσει στην κάτοψη (σχήμα 3).

(20 μονάδες)

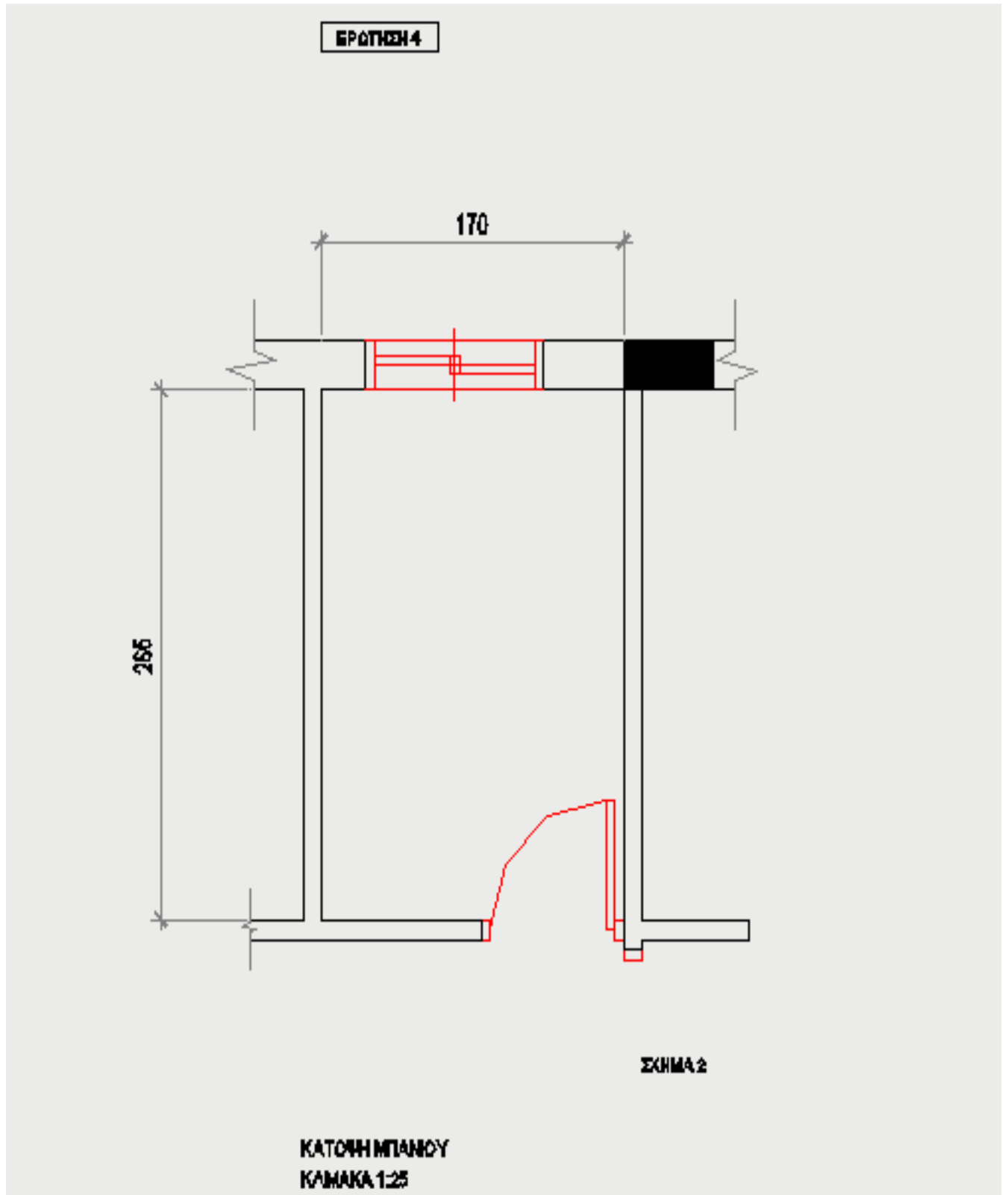


ΤΕΛΟΣ ΔΟΚΙΜΙΟΥ

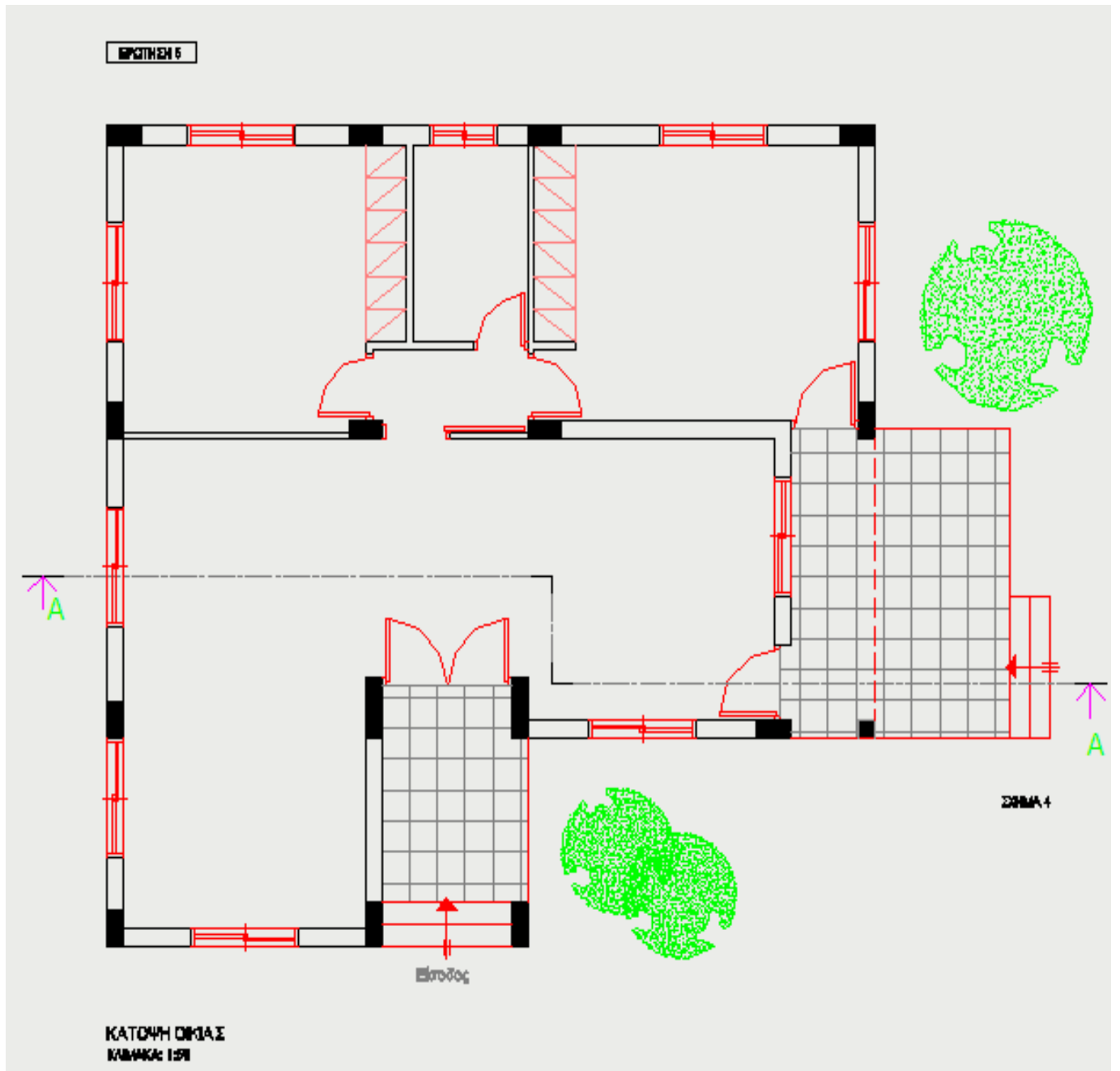
ΦΥΛΛΟ ΣΧΕΔΙΑΣΗΣ 1, σχήμα 1.



ΦΥΛΛΟ ΣΧΕΔΙΑΣΗΣ 1, σχήμα 2



ΦΥΛΛΟ ΣΧΕΔΙΑΣΗΣ 2, σχήμα 4.



ΦΥΛΛΟ ΣΧΕΔΙΑΣΗΣ 3, σχήμα 5

